


**Pitanja za 3 boda:**

1. Koliko najmanje točaka moramo ukloniti iz figure na slici, tako da nijedne tri od preostalih točaka ne pripadaju istom pravcu?

- A) 1      B) 2      C) 3      D) 4      E) 7



**Rješenje: C**      3 točke po bilo kojoj dijagonali

2. U akvariju je 200 riba, od kojih je 1% plavih, a ostale su žute. Koliko žutih riba treba izvaditi iz akvarija da bi plave ribe predstavljale 2% od ukupnog broja svih riba u akvariju?

- A) 2      B) 4      C) 20      D) 50      E) 100

**Rješenje: E**      1% (200) = 2, u akvariju su 2 plave ribe. 2% (x) = 2  $\Rightarrow$  x = 100. Iz akvarija treba maknuti 100 riba.

3. Koji je od sljedećih brojeva najveći?

- A)  $\sqrt{2} - \sqrt{1}$       B)  $\sqrt{3} - \sqrt{2}$       C)  $\sqrt{4} - \sqrt{3}$       D)  $\sqrt{5} - \sqrt{4}$       E)  $\sqrt{6} - \sqrt{5}$

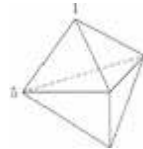
**Rješenje: A**

4. Marija, Vili i Kosjenka bili su slastičarnici. Svaki od njih naručio je 3 čaše soka, 2 sladoleda i 5 uštipaka. Koji od sljedećih iznosa može biti iznos njihovog ukupnog računa?

- A) 140,20 kn      B) 138,20 kn      C) 137,20 kn      D) 136,20 kn      E) 135,20 kn

**Rješenje: D**      Svo troje imalo je istu narudžbu pa ukupan iznos mora biti djeljiv s 3. To je 136,20 kn.

5. Na slici je figura koja ima 6 strana oblika trokuta. Na svakom vrhu je broj. Za svaku stranu zbrajamo tri broja na vrhovima te strane. Ako su sve sume jednake dva broja su 1 i 5 kao na slici, kolika je suma svih 5 brojeva?



- A) 9      B) 12      C) 17      D) 18      E) 24

**Rješenje: C**      Nasuprot vrha s brojem 1 je vrh s brojem 1. Ostali vrhovi imaju broj 5.

6. Za koliko različitih prirodnih brojeva  $n$  je broj  $n^2 + n$  prosti broj?

- A) 0      B) 1      C) 2      D) 4      E) beskonačno mnogo

**Rješenje: B**      Samo za broj 1.

7. Kružnice  $k(F, 13)$  i  $k(G, 15)$  sijeku se u točkama P i Q. Udaljenost točaka P i Q je 24.

Koji od sljedećih brojeva može biti duljina dužine  $\overline{FG}$ ?

- A) 2      B) 5      C) 9      D) 14      E) 18

**Rješenje: D**       $\overline{FG}$  je zajednička tetiva obje kružnice, njena simetrala prolazi kroz oba središta. Neka je točka R polovište dužine  $\overline{FG}$ . Primjenom Pitagorinog poučka na trokute  $\triangle FRP$  i  $\triangle GRP$  dobivamo da je  $|FR|=5$  i  $|GR|=9$ , odn.  $|FG|=14$ .

8. Kutija sadrži 2 bijele, 3 crvene i 4 plave čarape. Sanja zna da trećina ukupnog broja čarapa ima rupe, ali ne zna koje su boje čarape s rupama. Ona uzima nasumce čarape iz kutije s namjerom da izvuče dvije iste boje. Koliko čarapa mora izvući da bi sigurno imala par iste boje?

- A) 2      B) 3      C) 6      D) 7      E) 8

**Rješenje: D**

**Pitanja za 4 boda:**

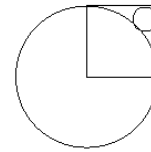
9. Razlika između  $\sqrt{n}$  i 10 manja je od 1. Koliko takvih cijelih brojeva  $n$  ima?

- A) 19                      B) 20                      C) 39                      D) 40                      E) 41

**Rješenje: C**  $|\sqrt{n} - 10| < 1 \Rightarrow -1 < \sqrt{n} - 10 < 1 \Rightarrow 81 < n < 121$ . Takvih brojeva ima 39.

10. Kvadrat na slici ima stranicu duljine 1. Radijus manjeg kruga je:

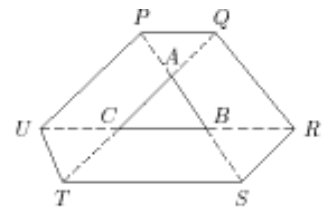
- A)  $\sqrt{2} - 1$               B)  $\frac{1}{4}$                       C)  $\frac{\sqrt{2}}{4}$                       D)  $1 - \frac{\sqrt{2}}{2}$                       E)  $(1 - \sqrt{2})^2$



**Rješenje: E** Na zadanoj slici istaknimo dijagonalu kvadrata, na taj način dobivamo jednakokrani pravokutni trokut s katetama duljina 1 i hipotenuzom duljine  $\sqrt{2}$ . U malom krugu istaknimo slični pravokutni trokut s katetama duljina  $r$  i hipotenuzom duljine  $r + x$ . Iz sličnosti tih dvaju trokuta slijedi:

1:  $r = \sqrt{2} : (r + x)$ , odn.  $r = \frac{x}{\sqrt{2} - 1}$ . Vrijedi i  $x + 1 + 2r = \sqrt{2}$ . Iz tog sustava slijedi da je  $r = (\sqrt{2} - 1)^2$ .

11. Svaka stranica trokuta ABC produžena je s obje strane do točaka P, Q, R, S, T i U takvih da  $|PA| = |AB| = |BS|$ ,  $|TC| = |CA| = |AQ|$  i  $|UC| = |CB| = |BR|$ . Ako je površina trokuta ABC jednaka 1, kolika je površina šesterokuta PQRSTU?



- A) 9                      B) 10                      C) 12                      D) 13                      E) nedovoljno podataka

**Rješenje: D** Trokut UCT  $\cong$  trokutu PQA  $\cong$  trokutu BSR  $\cong$  trokutu ABC pa imaju jednake površine  $P_1$ . Trokut UBP sličan je trokutu ABC s koeficijentom sličnosti 2, dakle površina trokuta UBP četiri je puta veća od površine trokuta ABC =  $4P_1$ .  $P(UCAP) = 3P_1$ . Analogno je  $P(QABR) = 3P_1$  i  $P(CBST) = 3P_1$ . Površina šesterokuta je zbroj površina tri trapeza i 4 sukladna trokuta, dakle iznosi 13.

12. Želimo obojiti kvadratičnu rešetku koristeći Crvenu, Plavu, Zelenu i Smeđu boju, tako da su susjedni kvadrati različitih boja (kvadrati se smatraju susjedni ako imaju istu stranicu ili isti vrh). Kojom bojom ćemo obojiti zatamnjeni kvadrat?

P	C			
Z	S			
		C		
C				

- A) samo crveno    B) samo zeleno    C) samo smeđe    D) zeleno ili smeđe    E) nemoguće je odrediti

**Rješenje: D**

P	C	P	C	P
Z	S	Z	S	Z
C	P	C	P	C
Z	S	Z	S	
C	P	C	P	C

P	C	P	C	P
Z	S	Z	S	Z
C	P	C	P	C
S	Z	S	Z	
C	P	C	P	C

13. Na otoku istinoljubaca i lažaca 25 ljudi stoje u redu. Svi osim prve osobe u redu, kažu da je osoba ispred njih lažac. Prva osoba u redu kaže da su sve osobe koje stoje iza nje u redu lašci. Koliko je lažaca u redu? ( istinoljupci uvijek govore istinu, a lašci uvijek neistinu )

- A) 0                      B) 12                      C) 13                      D) 24                      E) nemoguće je utvrditi

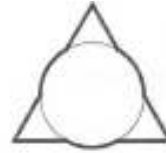
**Rješenje: C**

14. Koja je zadnja znamenka broja  $1^2 - 2^2 + \dots - 2008^2 + 2009^2$  ?

- A) 1                      B) 2                      C) 3                      D) 4                      E) 5

**Rješenje: E**  $1^2 - 2^2 + \dots - 2008^2 + 2009^2 = (1-2)(1+2) + (3-4)(3+4) + \dots + (2007-2008)(2007+2008) + 2009^2 = -3-7-11-\dots-4015+2009^2 = -2009 \cdot 1014 + 2009^2 = 2009 \cdot 1005$ , a taj umnožak završava znamenkom 5.

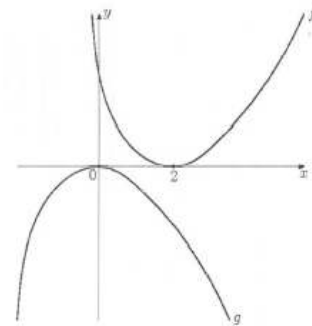
15. Na slici je krug radijusa 1 postavljen na jednakostranični trokut sa stranicom duljine 3 tako da im se središta poklapaju. Koliki je opseg lika na slici?



- A)  $3 + 2\pi$     B)  $6 + \pi$     C)  $9 + \frac{\pi}{3}$     D)  $3\pi$     E)  $9 + \pi$

**Rješenje: B** Lik na slici omeđuju tri sukladna kružna luka duljine  $l$  isječaka sa središnjim kutom od  $60^\circ$  i 6 sukladnih dužina duljine 1. Opseg lika je  $3 \cdot l + 6 = 3 \frac{1 \cdot \pi \cdot 60^\circ}{180^\circ} + 6 = \pi + 6$ .

16. Na slici su grafovi realnih funkcija  $f$  i  $g$ . U kakvom su odnosu funkcije  $f$  i  $g$ ?



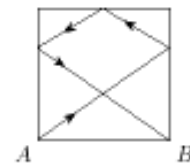
- A)  $g(x) = f(x+2)$     B)  $g(x-2) = -f(x)$     C)  $g(x) = -f(-x+2)$

- D)  $g(-x) = -f(-x+2)$     E)  $g(2-x) = -f(x)$

**Rješenje: B**

**Pitanja za 5 bodova:**

17. Na biljarskom stolu kvadratnog oblika stranice duljine 2 m, lopta je izbačena iz kuta A. Nakon što je dotakla tri strane stola, kao što to pokazuje slika, lopta se vratila u kut B. Kolika je duljina puta lopte od kuta A do kuta B? (Napomena: na mjestima gdje lopta dotiče stranu stola, kut upadanja jednak je kutu odbijanja)



- A) 7    B)  $2\sqrt{13}$     C) 8    D)  $4\sqrt{3}$     E)  $2(\sqrt{2} + \sqrt{3})$

**Rješenje: B** Dva veća pravokutna trokuta s pravim kutovima u vrhu A, odn. B su sukladna. Njihove katete su duljina 2 m i  $x$  m. Na nasuprotnoj dužini dužine  $\overline{AB}$  imamo također dva sukladna pravokutna trokuta s katetama duljina 1 m i  $(2-x)$  m. Veliki i mali pravokutni trokuti su slični pa vrijedi  $x : 2 = (2-x) : 1$ , odakle je  $x = \frac{4}{3}$  m.

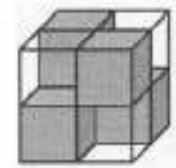
Lopta se kreće po hipotenzama četiri pravokutna trokuta pa je ukupni put lopte  $2 \frac{2\sqrt{13}}{3} + 2 \frac{\sqrt{13}}{3}$  m =  $2\sqrt{13}$  m.

18. 2009 klockana, svaki od njih je svjetli ili tamni, uspoređuju svoje visine. Poznato je da je jedan svjetli klockan viši od točno 8 tamnih klockana, jedan svjetli klockan viši od točno 9 tamnih klockana, jedan svjetli klockan viši od točno 10 tamnih klockana itd. i točno jedan svjetli klockan je viši od svih tamnih klockana. Koliko ima svjetlih klockana?

- A) 1000    B) 1001    C) 1002    D) 1003    E) nemoguća situacija

**Rješenje: B** Broj tamnih klockana je za 7 veći od broja svjetlih klockana, znači svjetlih klockana ima 1001.

19. Kocka s bridom duljine 2 dm sadrži 4 crne neprozirne kocke s bridom duljine 1 dm i 4 staklene i prozirne kocke s bridom duljine 1 dm. Manje kocke su smještene u veliku tako da se kroz nijednu plohu velike kocke ne može vidjeti nasuprotna strana, tj. velika kocka je "neprozirna". Koliko najmanje crnih neprozirnih kocaka s bridom duljine 1 dm treba smjestiti u veliku kocku s bridom duljine 3 dm da cijela kocka bude "neprozirna"?



- A) 6    B) 9    C) 10    D) 12    E) 18

**Rješenje: B**

20. U kvadratu na slici poznata su dva broja. Svojstvo kvadrata da je zbroj svih brojeva u svakom retku, stupcu i dijagonali jednak. Koji broj treba nadopuniti umjesto broja a?

a		
		47
	63	

- A) 16    B) 51    C) 54    D) 55    E) 110

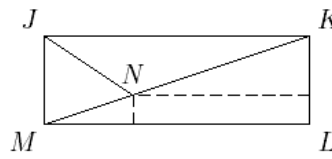
**Rješenje: D** Neka su nepoznati brojevi na dijagonali redom  $a$ ,  $b$  i  $c$ . Zbog jednakosti zbroja brojeva po dijagonali i u 2. stupcu, slijedi  $a + b + c = x + b + 63$ , znači  $x = a + c - 63$ , gdje je  $x$  nepoznati broj na presjeku 1. retka i 2. stupca. Zbog jednakosti zbroja brojeva po dijagonali i u 3. stupcu, slijedi  $a + b + c = y + c + 47$ , znači  $y = a + b - 47$ , gdje je  $y$  nepoznati broj na presjeku 1. retka i 3. stupca. Zbog jednakosti zbroja brojeva po dijagonali i u 1. retku, slijedi  $a + b + c = a + a + c - 63 + a + b - 47$ , znači  $a = 55$

21. Za koliko cijelih brojeva  $n \geq 3$  postoje konveksni mnogokuti čiji su veličine kutova u omjeru  $1 : 2 : \dots : n$ ?

- A) 1      B) 2      C) 3      D) 5      E) više od 5

**Rješenje: B** Dva za  $n = 3$  i  $n = 4$ .

22. U pravokutniku JKLM, simetrala kuta KJM siječe dijagonalu  $\overline{KM}$  u točki N. Udaljenost točke N od stranice  $\overline{LM}$ , odn.  $\overline{KL}$  je redom 1 odn. 8.  $|LM| = ?$



- A)  $8 + 2\sqrt{2}$       B)  $11 - \sqrt{2}$       C) 10      D)  $8 + 3\sqrt{2}$       E)  $11 + \frac{\sqrt{2}}{2}$

**Rješenje: A** Neka je  $x$  drugi odsječak na dužini  $\overline{LM}$ . Tada dužina  $\overline{LM}$  ima duljinu  $x + 8$ . Produžimo li dulju crtkanu liniju kroz točku N do stranice  $\overline{JM}$ , dobit ćemo pravokutni jednakokrani trokut s katetama duljine  $x$ . Znači, drugi odsječak na dužini  $\overline{KL}$  je  $x$ . Prema Talesovom poučku o proporcionalnosti, na kutu MKL vrijedi  $x : (x+1) = 8 : (x+8)$ , odakle slijedi da je  $x = 2\sqrt{2}$ , odn.  $|LM| = 8 + 2\sqrt{2}$ .

23. Koliko 10 – eroznamenastih brojeva sastavljenih isključivo od znamenaka 1, 2 i 3 ima takvih da je razlika dvije susjedne znamenke 1?

- A) 16      B) 32      C) 64      D) 80      E) 100

**Rješenje: C**

24. Ako je  $k = \frac{a}{b+c} = \frac{b}{c+a} = \frac{c}{a+b}$ , koliko mogućih vrijednosti ima broj  $k$ ?

- A) 1      B) 2      C) 3      D) 4      E) 6

**Rješenje: B** Moguće vrijednosti broja  $k$  su  $-1$  i  $\frac{1}{2}$ .